

නව නිර්දේශය / புதிய பாடத்திட்டம் / New Syllabus

දෙපාර්තමේන්තුව
இலங்கைப் பரீட்சைத் திணைக்களம்
Department of Examinations, Sri Lanka
இலங்கைப் பரීட்சைத் திணைக்களம்
Department of Examinations, Sri Lanka



අධ්‍යයන පොදු සහතික පත්‍ර (උසස් පෙළ) විභාගය, 2020
கல்விப் பொதுத் தராதரப் பத்திர (உயர் தர)ப் பரீட்சை, 2020
General Certificate of Education (Adv. Level) Examination, 2020

සංයුක්ත ගණිතය I
 இணைந்த கணிதம் I
 Combined Mathematics I

10 S I

පැය තුනයි
 மூன்று மணித்தியாலம்
 Three hours

අමතර කියවීම් කාලය - මිනිත්තු 10 යි
மேலதிக வாசிப்பு நேரம் - 10 நிமிடங்கள்
 Additional Reading Time - 10 minutes

අමතර කියවීම් කාලය ප්‍රශ්න පත්‍රය කියවා ප්‍රශ්න තෝරා ගැනීමට පිළිතුරු ලිවීමේදී ප්‍රමුඛත්වය දෙන ප්‍රශ්න සංවිධානය කර ගැනීමට යොදාගන්න.

විභාග අංකය

--	--	--	--	--	--	--	--

උපදෙස්:

- * මෙම ප්‍රශ්න පත්‍රය කොටස් දෙකකින් සමන්විත වේ;
A කොටස (ප්‍රශ්න 1 - 10) සහ **B කොටස** (ප්‍රශ්න 11 - 17).
- * **A කොටස:**
සියලු ම ප්‍රශ්නවලට පිළිතුරු සපයන්න. එක් එක් ප්‍රශ්නය සඳහා ඔබේ පිළිතුරු, සපයා ඇති ඉඩෙහි ලියන්න. වැඩිපුර ඉඩ අවශ්‍ය වේ නම්, ඔබට අමතර ලියන කඩදාසි භාවිත කළ හැකි ය.
- * **B කොටස:**
 ප්‍රශ්න පහකට පමණක් පිළිතුරු සපයන්න. ඔබේ පිළිතුරු, සපයා ඇති කඩදාසිවල ලියන්න.
- * නියමිත කාලය අවසන් වූ පසු **A කොටසෙහි** පිළිතුරු පත්‍රය, **B කොටසෙහි** පිළිතුරු පත්‍රයට උඩින් සිටින පරිදි කොටස් දෙක අමුණා විභාග ශාලාධිපතිට භාර දෙන්න.
- * ප්‍රශ්න පත්‍රයෙහි **B කොටස පමණක්** විභාග ශාලාවෙන් පිටතට ගෙන යාමට ඔබට අවසර ඇත.

පරීක්ෂකවරුන්ගේ ප්‍රයෝජනය සඳහා පමණි.

(10) සංයුක්ත ගණිතය I		
කොටස	ප්‍රශ්න අංකය	ලකුණු
A	1	
	2	
	3	
	4	
	5	
	6	
	7	
	8	
	9	
	10	
B	11	
	12	
	13	
	14	
	15	
	16	
	17	
එකතුව		

එකතුව

ඉලක්කමෙන්	
අකුරින්	

සංකේත අංක

උත්තර පත්‍ර පරීක්ෂක	
පරීක්ෂා කළේ:	1
	2
අධීක්ෂණය කළේ:	

A කොටස

1. ගණිත අග්‍රහණ මූලධර්මය භාවිතයෙන්, සියලු $n \in \mathbb{Z}^+$ සඳහා $\sum_{r=1}^n (4r+1) = n(2n+3)$ බව සාධනය කරන්න.

.....
.....
.....
.....
.....
.....
.....
.....
.....
.....
.....
.....
.....
.....
.....
.....
.....
.....
.....
.....
.....
.....
.....

2. එක ම රූප සටහනක $y=3|x-1|$ හා $y=|x|+3$ හි ප්‍රස්තාරවල දළ සටහන් අඳින්න.
එනගින් හෝ අන් අයුරකින් හෝ, $3|2x-1| > 2|x|+3$ අසමානතාව සපුරාලන x හි සියලු ම තාත්කාරීක අගයන් සොයන්න.

.....
.....
.....
.....
.....
.....
.....
.....
.....
.....
.....
.....
.....
.....
.....
.....
.....
.....
.....
.....
.....
.....
.....
.....
.....

3. එක ම ආගන්ථි සටහනක,

(i) $\text{Arg}(z + 1 - 3i) = -\frac{\pi}{4}$ හා

(ii) $|z - 2| = \sqrt{2}$

සපුරාලන z සංකීර්ණ සංඛ්‍යා නිරූපණය කරන ලක්ෂ්‍යවල පථයන්හි දළ සටහන් අඳින්න.

ඒ නගින්න. මෙම පථයන්හි ඡේදන ලක්ෂ්‍ය මගින් නිරූපණය කරනු ලබන සංකීර්ණ සංඛ්‍යා ලියා දක්වන්න.

.....

.....

.....

.....

.....

.....

.....

.....

.....

.....

.....

.....

.....

.....

.....

.....

.....

.....

.....

.....

.....

.....

4. $n \in \mathbb{Z}^+$ යැයි ගනිමු. x හි ආරෝහණ බලවලින් $(1 + x)^n$ හි ද්විපද ප්‍රසාරණය ලියා දක්වන්න. ඉහත ප්‍රසාරණයේ අනුයාත පද දෙකක සංගුණක සමාන නම්, n මත්තේ වන බව පෙන්වන්න.

.....

.....

.....

.....

.....

.....

.....

.....

.....

.....

.....

.....

.....

.....

.....

.....

.....

.....

.....

.....

.....

.....

.....

.....

5. $\lim_{x \rightarrow \frac{\pi}{3}} \frac{\sin(x - \frac{\pi}{3})}{(\sqrt{3x} - \sqrt{\pi})} = \frac{2\sqrt{\pi}}{3}$ බව පෙන්වන්න.

.....

.....

.....

.....

.....

.....

.....

.....

.....

.....

.....

.....

.....

.....

.....

.....

.....

.....

.....

.....

.....

.....

.....

6. $y = \frac{e^x}{1+e^x}$, $x = 0$, $x = \ln 3$ හා $y = 0$ වක්‍ර මගින් ආවෘත වන පෙදෙස x -අක්ෂය වටා රේඛීයත 2π වලින් භ්‍රමණය කරනු ලැබේ. මෙලෙස ජනනය වන ඝන වස්තුවේ පරිමාව $\frac{\pi}{4}(4\ln 2 - 1)$ බව පෙන්වන්න.

.....

.....

.....

.....

.....

.....

.....

.....

.....

.....

.....

.....

.....

.....

.....

.....

.....

.....

.....

.....

.....

.....

.....

7. $\frac{x^2}{25} + \frac{y^2}{9} = 1$ ඉලිප්සයට එය මත $P \equiv (5 \cos \theta, 3 \sin \theta)$ ලක්ෂ්‍යයේ දී වූ අභිලම්භ රේඛාවෙහි සමීකරණය $5 \sin \theta x - 3 \cos \theta y = 16 \sin \theta \cos \theta$ බව පෙන්වන්න.

ඉහත ඉලිප්සයට එය මත $\left(\frac{5}{2}, \frac{3\sqrt{3}}{2}\right)$ ලක්ෂ්‍යයේ දී ඇඳි අභිලම්භ රේඛාවේ y -අන්තඃකේතය සොයන්න.

.....

.....

.....

.....

.....

.....

.....

.....

.....

.....

.....

.....

.....

.....

.....

.....

.....

.....

8. $m \in \mathbb{R}$ හා l යනු $A \equiv (1, 2)$ ලක්ෂ්‍යය හරහා යන අනුක්‍රමණය m වූ සරල රේඛාව යැයි ගනිමු.

l හි සමීකරණය m ඇසුරෙන් ලියා දක්වන්න.

$B \equiv (2, 3)$ ලක්ෂ්‍යයේ සිට l රේඛාවට ඇති ලම්භ දුර ඒකක $\frac{1}{\sqrt{5}}$ බව දී ඇත.

m හි අගයන් සොයන්න.

.....

.....

.....

.....

.....

.....

.....

.....

.....

.....

.....

.....

.....

.....

.....

.....

.....

.....

.....

.....

9. කේන්ද්‍රය $(-2, 0)$ ලක්ෂ්‍යයෙහි තිබෙන හා $(-1, \sqrt{3})$ ලක්ෂ්‍යය හරහා යන S වෘත්තයේ සමීකරණය සොයන්න. $A \equiv (1, -1)$ ලක්ෂ්‍යයේ සිට S වෘත්තයට ඇඳි ස්පර්ශකවල ස්පර්ශ ජ්‍යායේ සමීකරණය ලියා දක්වන්න.

ඒ නමින්, A සිට S ට ඇඳි ස්පර්ශකයන්හි ස්පර්ශ ලක්ෂ්‍යවල x -ධනාංක $5x^2 + 8x + 2 = 0$ සමීකරණය තෘප්ත කරන බව පෙන්වන්න.

.....

.....

.....

.....

.....

.....

.....

.....

.....

.....

.....

.....

.....

.....

.....

10. $n \in \mathbb{Z}$ සඳහා $\theta \neq (2n + 1)\frac{\pi}{2}$ යැයි ගනිමු.

$\cos^2 \theta + \sin^2 \theta = 1$ සර්වසාමය භාවිතයෙන්, $\sec^2 \theta = 1 + \tan^2 \theta$ බව පෙන්වන්න.

$\sec \theta + \tan \theta = \frac{4}{3}$ බව දී ඇත. $\sec \theta - \tan \theta = \frac{3}{4}$ බව අපෝහනය කරන්න.

ඒ නමින්, $\cos \theta = \frac{24}{25}$ බව පෙන්වන්න.

.....

.....

.....

.....

.....

.....

.....

.....

.....

.....

.....

.....

.....

.....

.....

සියලු ම හිමිකම් ඇවිරිණි / முழுப் பதிப்புரிமையுடையது / All Rights Reserved

නව නිර්දේශය / புதிய பாடத்திட்டம் / New Syllabus

ශ්‍රී ලංකා විභාග දෙපාර්තමේන්තුව ශ්‍රී ලංකා විභාග දෙපාර්තමේන්තුව ශ්‍රී ලංකා විභාග දෙපාර්තමේන්තුව ශ්‍රී ලංකා විභාග දෙපාර්තමේන්තුව ශ්‍රී ලංකා විභාග දෙපාර්තමේන්තුව ශ්‍රී ලංකා විභාග දෙපාර්තමේන්තුව ශ්‍රී ලංකා විභාග දෙපාර්තමේන්තුව ශ්‍රී ලංකා විභාග දෙපාර්තමේන්තුව ශ්‍රී ලංකා විභාග දෙපාර්තමේන්තුව ශ්‍රී ලංකා විභාග දෙපාර්තමේන්තුව
 இலங்கைப் பரீட்சைத் திணைக்களம் இலங்கைப் பரීட்சைத் திணைக்களம் இலங்கைப் பரීட்சைத் திணைக்களம் இலங்கைப் பரීட்சைத் திணைக்களம் இலங்கைப் பரීட்சைத் திணைக்களம் இலங்கைப் பரීட்சைத் திணைக்களம் இலங்கைப் பரීட்சைத் திணைக்களம் இலங்கைப் பரීட்சைத் திணைக்களம் இலங்கைப் பரීட்சைத் திணைக்களம் இலங்கைப் பரීட்சைத் திணைக்களம்
 Department of Examinations, Sri Lanka Department of Examinations, Sri Lanka Department of Examinations, Sri Lanka Department of Examinations, Sri Lanka Department of Examinations, Sri Lanka Department of Examinations, Sri Lanka Department of Examinations, Sri Lanka Department of Examinations, Sri Lanka Department of Examinations, Sri Lanka Department of Examinations, Sri Lanka
 இலங்கைப் பரීட்சைத் திணைக்களம் இலங்கைப் பரීட்சைத் திணைக்களம் இலங்கைப் பரීட்சைத் திணைக்களம் இலங்கைப் பரīட்சைத் திணைக்களம் இலங்கைப் பரīட்சைத் திணைக்களம் இலங்கைப் பரīட்சைத் திணைக்களம் இலங்கைப் பரīட்சைத் திணைக்களம் இலங்கைப் பரīட்சைத் திணைக்களம் இலங்கைப் பரīட்சைத் திணைக்களம் இலங்கைப் பரīட்சைத் திணைக்களம்

අධ්‍යයන පොදු සහතික පත්‍ර (උසස් පෙළ) විභාගය, 2020
 கல்விப் பொதுத் தராதரப் பத்திர (உயர் தர)ப் பரீட்சை, 2020
 General Certificate of Education (Adv. Level) Examination, 2020

සංයුක්ත ගණිතය I
 இணைந்த கணிதம் I
 Combined Mathematics I

10 S I

B කොටස

* ප්‍රශ්න පහකට පමණක් පිළිතුරු සපයන්න.

11.(a) $f(x) = x^2 + px + c$ හා $g(x) = 2x^2 + qx + c$ යැයි ගනිමු; මෙහි $p, q \in \mathbb{R}$ හා $c > 0$ වේ. $f(x) = 0$ හා $g(x) = 0$ සඳහා a පොදු මූලයක් ඇති බව දී ඇත. $a = p - q$ බව පෙන්වන්න.
 p හා q ඇසුරෙන් c සොයා,
 (i) $p > 0$ නම් $p < q < 2p$ බව,
 (ii) $f(x) = 0$ හි විචේතකය $(3p - 2q)^2$ බව
 අපේක්ෂා කරන්න.

β හා γ යනු පිළිවෙළින් $f(x) = 0$ හි හා $g(x) = 0$ හි අනික් මූල යැයි ගනිමු. $\beta = 2\gamma$ බව පෙන්වන්න.
 තව ද β හා γ මූල වන වර්ගජ සමීකරණය $2x^2 + 3(2p - q)x + (2p - q)^2 = 0$ මගින් දෙනු ලබන බව පෙන්වන්න.

(b) $h(x) = x^3 + ax^2 + bx + c$ යැයි ගනිමු; මෙහි $a, b, c \in \mathbb{R}$ වේ. $x^2 - 1$ යන්න $h(x)$ හි සාධකයක් බව දී ඇත.
 $b = -1$ බව පෙන්වන්න.
 $h(x)$ යන්න $x^2 - 2x$ මගින් බෙදූ විට ශේෂය $5x + k$ බව ද දී ඇත; මෙහි $k \in \mathbb{R}$ වේ. k හි අගය සොයා $h(x)$ යන්න $(x - \lambda)^2 (x - \mu)$ ආකාරයෙන් ලිවිය හැකි බව පෙන්වන්න; මෙහි $\lambda, \mu \in \mathbb{R}$ වේ.

12.(a) පියානෝ වාදකයින් පස්දෙනකු, ගිටාර් වාදකයින් පස්දෙනකු, ගායිකාවන් තුන්දෙනකු හා ගායකයින් හත්දෙනකු අතුරෙන් හරියටම පියානෝ වාදකයින් දෙදෙනකු ද අඩු හරමින් ගිටාර් වාදකයින් හතරදෙනකු ද ඇතුළත් වන පරිදි සාමාජිකයන් එකොළොස්දෙනකුගෙන් සමන්විත සංගීත කණ්ඩායමක් තෝරා ගැනීමට අවශ්‍යව ඇත. තෝරා ගත හැකි එවැනි වෙනස් සංගීත කණ්ඩායම් ගණන සොයන්න.
 මේවා අතුරෙන් හරියටම ගායිකාවන් දෙදෙනකු සිටින සංගීත කණ්ඩායම් ගණන ද සොයන්න.

(b) $r \in \mathbb{Z}^+$ සඳහා $U_r = \frac{3r-2}{r(r+1)(r+2)}$ හා $V_r = \frac{A}{r+1} - \frac{B}{r}$ යැයි ගනිමු; මෙහි $A, B \in \mathbb{R}$ වේ.
 $r \in \mathbb{Z}^+$ සඳහා $U_r = V_r - V_{r+1}$ වන පරිදි A හා B හි අගයන් සොයන්න.
 එ නසින්, $n \in \mathbb{Z}^+$ සඳහා $\sum_{r=1}^n U_r = \frac{n^2}{(n+1)(n+2)}$ බව පෙන්වන්න.
 $\sum_{r=1}^{\infty} U_r$ අපරිමිත ශ්‍රේණිය අභිසාරී බව පෙන්වා එහි ඓක්‍යය සොයන්න.
 දැන්, $r \in \mathbb{Z}^+$ සඳහා $W_r = U_{r+1} - 2U_r$ යැයි ගනිමු. $\sum_{r=1}^n W_r = U_{n+1} - U_1 - \sum_{r=1}^n U_r$ බව පෙන්වන්න.
 $\sum_{r=1}^{\infty} W_r$ අපරිමිත ශ්‍රේණිය අභිසාරී බව අපේක්ෂා කර එහි ඓක්‍යය සොයන්න.

13.(a) $A = \begin{pmatrix} a+1 & 0 \\ 1 & 1 \\ 0 & 1 \end{pmatrix}$, $B = \begin{pmatrix} 1 & 0 \\ 0 & 1 \\ a & 2 \end{pmatrix}$ හා $C = \begin{pmatrix} a & 1 \\ a & 2 \end{pmatrix}$ යැයි ගනිමු; මෙහි $a \in \mathbb{R}$ වේ.

$A^T B - I = C$ බව පෙන්වන්න; මෙහි I යනු ගණය 2 වන ඒකක න්‍යාසය වේ.

C^{-1} පවතින්නේ $a \neq 0$ ම නම් පමණක් බව ද පෙන්වන්න.

දැන්, $a = 1$ යැයි ගනිමු. C^{-1} ලියා දක්වන්න.

$CPC = 2I + C$ වන පරිදි P න්‍යාසය සොයන්න.

(b) $z, w \in \mathbb{C}$ යැයි ගනිමු. $|z|^2 = z\bar{z}$ බව පෙන්වා, එය $z - w$ ට යෙදීමෙන්

$|z - w|^2 = |z|^2 - 2\text{Re}z\bar{w} + |w|^2$ බව පෙන්වන්න.

$|1 - z\bar{w}|^2$ සඳහා ද එවැනි ප්‍රකාශනයක් ලියා දක්වා, $|z - w|^2 - |1 - z\bar{w}|^2 = -(1 - |z|^2)(1 - |w|^2)$ බව පෙන්වන්න.

$|w| = 1$ හා $z \neq w$ නම් $\left| \frac{z - w}{1 - z\bar{w}} \right| = 1$ බව අපෝහනය කරන්න.

(c) $1 + \sqrt{3}i$ යන්න $r(\cos \theta + i \sin \theta)$ ආකාරයෙන් ප්‍රකාශ කරන්න; මෙහි $r > 0$ හා $0 < \theta < \frac{\pi}{2}$ වේ.

$(1 + \sqrt{3}i)^m (1 - \sqrt{3}i)^n = 2^8$ බව දී ඇත; මෙහි m හා n ධන නිඛිල වේ.

ද මුඛාවර් ප්‍රමේයය යෙදීමෙන්, m හා n හි අගයන් නිර්ණය කිරීමට ප්‍රමාණවත් සමීකරණ ලබා ගන්න.

14.(a) $x \neq 3$ සඳහා $f(x) = \frac{x(2x-3)}{(x-3)^2}$ යැයි ගනිමු.

$f(x)$ හි ව්‍යුත්පන්නය, $f'(x)$ යන්න $x \neq 3$ සඳහා $f'(x) = \frac{9(1-x)}{(x-3)^3}$ මගින් දෙනු ලබන බව පෙන්වන්න.

ඒ නගින, $f(x)$ වැඩි වන ප්‍රාන්තරය හා $f(x)$ අඩු වන ප්‍රාන්තර සොයන්න.

$f(x)$ හි හැරුම් ලක්ෂ්‍යයේ බණ්ඩාංක ද සොයන්න.

$x \neq 3$ සඳහා $f''(x) = \frac{18x}{(x-3)^4}$ බව දී ඇත.

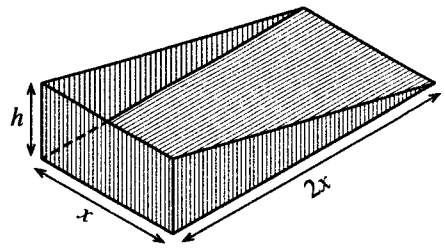
$y = f(x)$ හි ප්‍රස්තාරයේ නතිවර්තන ලක්ෂ්‍යයේ බණ්ඩාංක සොයන්න.

ස්පර්ශෝත්මුව, හැරුම් ලක්ෂ්‍යය හා නතිවර්තන ලක්ෂ්‍යය දක්වමින් $y = f(x)$ හි ප්‍රස්තාරයේ දළ සටහනක් අඳින්න.

(b) යාබද රූපයෙන් දැවිලි එකතු කරනයක මිට රහිත කොටස දැක්වේ.

සෙන්ටිමීටරවලින් එහි මාන රූපයේ දැක්වේ. එහි පරිමාව $x^2 h \text{ cm}^3$ යන්න 4500 cm^3 බව දී ඇත.

එහි පෘෂ්ඨ වර්ගඵලය $S \text{ cm}^2$ යන්න $S = 2x^2 + 3xh$ මගින් දෙනු ලැබේ. S අවම වන්නේ $x = 15$ වන විට බව පෙන්වන්න.



15.(a) සියලු $x \in \mathbb{R}$ සඳහා $x^3 + 13x - 16 = A(x^2 + 9)(x + 1) + B(x^2 + 9) + 2(x + 1)^2$

වන පරිදි A හා B නියත පවතින බව දී ඇත.

A හා B හි අගයන් සොයන්න.

එ නිසින්, $\frac{x^3 + 13x - 16}{(x+1)^2(x^2+9)}$ යන්න හිත්ත භාගවලින් ලියා දක්වා,

$$\int \frac{x^3 + 13x - 16}{(x+1)^2(x^2+9)} dx \text{ සොයන්න.}$$

(b) කොටස් වශයෙන් අනුකලනය භාවිතයෙන්, $\int_0^1 e^x \sin^2 \pi x dx$ අගයන්න.

(c) a නියතයක් වන $\int_0^a f(x) dx = \int_0^a f(a-x) dx$ සූත්‍රය භාවිතයෙන්,

$$\int_0^{\pi} x \cos^6 x \sin^3 x dx = \frac{\pi}{2} \int_0^{\pi} \cos^6 x \sin^3 x dx \text{ බව පෙන්වන්න.}$$

$$\text{එ නිසින්, } \int_0^{\pi} x \cos^6 x \sin^3 x dx = \frac{2\pi}{63} \text{ බව පෙන්වන්න.}$$

16. $A \equiv (1, 2)$ හා $B \equiv (3, 3)$ යැයි ගනිමු.

A හා B ලක්ෂ්‍ය හරහා යන l සරල රේඛාවේ සමීකරණය සොයන්න.

එක එකක් l සමග $\frac{\pi}{4}$ ක සුළු කෝණයක් සාදමින් A හරහා යන l_1 හා l_2 සරල රේඛාවල සමීකරණ සොයන්න.

l මත ඕනෑම ලක්ෂ්‍යයක ඛණ්ඩාංක $(1 + 2t, 2 + t)$ ආකාරයෙන් ලිවිය හැකි බව පෙන්වන්න; මෙහි $t \in \mathbb{R}$ වේ.

l_1 හා l_2 යන දෙකම ස්පර්ශ කරන හා කේන්ද්‍රය l මත වූ මුළුමනින්ම පළමුවන වෘත්ත පාදකයේ පිහිටන අරය $\frac{\sqrt{10}}{2}$ වන, C_1 වෘත්තයේ සමීකරණය $x^2 + y^2 - 6x - 6y + \frac{31}{2} = 0$ බව ද පෙන්වන්න.

විෂ්කම්භයක අන්ත A හා B වූ C_2 වෘත්තයේ සමීකරණය ලියා දක්වන්න.

C_1 හා C_2 වෘත්ත ප්‍රලම්බව ඡේදනය වේ දැයි තීරණය කරන්න.

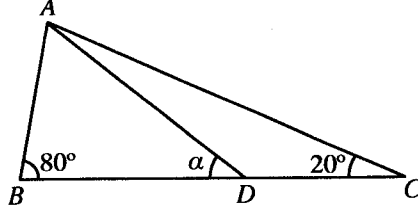
17. (a) $\sin A$, $\cos A$, $\sin B$ හා $\cos B$ ඇසුරෙන් $\sin(A-B)$ ලියා දක්වන්න.

(i) $\sin(90^\circ - \theta) = \cos \theta$, හා

(ii) $2 \sin 10^\circ = \cos 20^\circ - \sqrt{3} \sin 20^\circ$

බව අපෝහනය කරන්න.

(b) සුපුරුදු අංකනයෙන්, ABC ත්‍රිකෝණයක් සඳහා සයින් නීතිය ප්‍රකාශ කරන්න.



රූපයේ දක්වා ඇති ABC ත්‍රිකෝණයේ $\hat{A}BC = 80^\circ$ හා $\hat{A}CB = 20^\circ$ වේ. D ලක්ෂ්‍යය BC මත පිහිටා ඇත්තේ $AB = DC$ වන පරිදි ය. $\hat{A}DB = \alpha$ යැයි ගනිමු.

සුදුසු ත්‍රිකෝණ සඳහා සයින් නීතිය භාවිතයෙන්, $\sin 80^\circ \sin(\alpha - 20^\circ) = \sin 20^\circ \sin \alpha$ බව පෙන්වන්න.

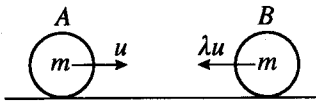
$\sin 80^\circ = \cos 10^\circ$ වන්නේ ඇයිදැයි පැහැදිලි කර, ඒ නසින්, $\tan \alpha = \frac{\sin 20^\circ}{\cos 20^\circ - 2 \sin 10^\circ}$ බව පෙන්වන්න.

ඉහත (a)(ii) හි ප්‍රතිඵලය භාවිතයෙන් $\alpha = 30^\circ$ බව අපෝහනය කරන්න.

(c) $\tan^{-1}(\cos^2 x) + \tan^{-1}(\sin x) = \frac{\pi}{4}$ සමීකරණය විසඳන්න.

A කොටස

1. එක එකෙහි ස්කන්ධය m වූ A හා B අංශු දෙකක් සුමට තිරස් ගෙඩිමක් මත එකම සරල රේඛාවේ එහෙත් ප්‍රතිවිරුද්ධ දිශාවලට චලනය වෙමින් සරල ලෙස ගැටේ. ගැටුමට මොහොතකට පෙර A හි හා B හි ප්‍රවේග



පිළිවෙළින් u හා λu වේ. A හා B අතර ප්‍රත්‍යාගති සංගුණකය $\frac{1}{2}$ වේ.

ගැටුමට මොහොතකට පසු A හි ප්‍රවේගය සොයා $\lambda > \frac{1}{3}$ නම්, A හි චලිත දිශාව ප්‍රතිවිරුද්ධ වන බව පෙන්වන්න.

.....

.....

.....

.....

.....

.....

.....

.....

.....

.....

.....

.....

.....

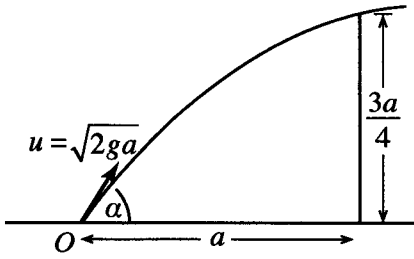
.....

.....

.....

2. අංශුවක් තිරස් ගෙඩිමක් මත වූ O ලක්ෂ්‍යයක සිට $u = \sqrt{2ga}$ ආරම්භක ප්‍රවේගයකින් හා තිරසට α ($0 < \alpha < \frac{\pi}{2}$) කෝණයකින් ප්‍රක්ෂේප කරනු ලැබේ. අංශුව, O සිට a තිරස් දුරකින් පිහිටි උස $\frac{3a}{4}$ වූ සිරස් බිත්තියකට යාන්තමින් ඉහළින් යයි.

$\sec^2 \alpha - 4 \tan \alpha + 3 = 0$ බව පෙන්වන්න.
ඒ නයිත්, $\alpha = \tan^{-1}(2)$ බව පෙන්වන්න.



.....

.....

.....

.....

.....

.....

.....

.....

.....

.....

.....

.....

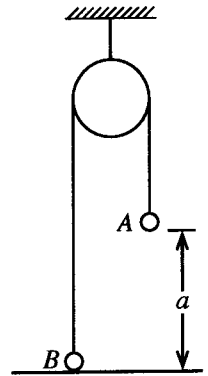
.....

.....

.....

.....

3. එක එකෙහි ස්කන්ධය m වූ A හා B අංශු දෙකක්, අවල සුමට කප්පියක් මඟින් යන සැහැල්ලු අවිනන්‍ය තන්තුවක දෙකෙළවරට ඇදා, රූපයේ දැක්වෙන පරිදි A අංශුව තිරස් ගෙබිමක සිට a උසකින් ඇතිවද B අංශුව ගෙබිම ස්පර්ශ කරමින් ද සමතුලිතතාවයේ පිහිටා ඇත. දැන්, A අංශුවට සිරස්ව පහළට mu ආවේගයක් දෙනු ලැබේ. ආවේගයෙන් මොහොතකට පසු A අංශුවේ ප්‍රවේගය සොයන්න.



A ට ගෙබිම වෙත ළඟා වීමට ගතවන කාලය ලියා දක්වන්න.

.....

.....

.....

.....

.....

.....

.....

.....

.....

.....

.....

.....

.....

.....

.....

.....

.....

.....

.....

.....

.....

4. ස්කන්ධය 1500 kg වූ කාරයක්, විශාලත්වය 500 N වූ නියත ප්‍රතිරෝධයකට එරෙහිව සෘජු තිරස් මාර්ගයක ධාවනය වේ. කාරයේ එන්ජිම 50 kW ජවයකින් ක්‍රියාකරමින් කාරය 25 ms^{-1} වේගයෙන් ධාවනය වන විට එහි ත්වරණය සොයන්න. මෙම මොහොතේ දී කාරයේ එන්ජිම ක්‍රියා විරහිත කරනු ලැබේ. එන්ජිම ක්‍රියා විරහිත කළ මොහොතේ සිට තත්පර 50 කට පසු කාරයේ වේගය සොයන්න.

.....

.....

.....

.....

.....

.....

.....

.....

.....

.....

.....

.....

.....

.....

.....

.....

.....

.....

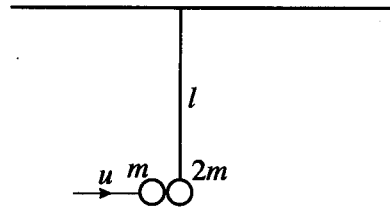
.....

.....

.....

.....

5. දිග l වන සැහැල්ලු අවිතන්‍ය තන්තුවක් මගින් තිරස් සිවිලිමක නිදහසේ ඵල්ලා ඇති ස්කන්ධය $2m$ වූ P අංශුවක් සමතුලිතතාවයේ පවතී. u ප්‍රවේගයෙන් තිරස් දිශාවකින් චලනය වන ස්කන්ධය m වූ තවත් අංශුවක්, P අංශුව සමඟ ගැටී එයට හා වේ. ගැටුමට පසුව ද තන්තුව තදව පවතින අතර සංයුක්ත අංශුව සිවිලිමට යාන්තමින් ළඟා වේ. $u = \sqrt{18gl}$ බව පෙන්වන්න.



.....

.....

.....

.....

.....

.....

.....

.....

.....

.....

.....

.....

.....

.....

.....

.....

.....

.....

.....

.....

.....

.....

.....

.....

6. $a > 0$ හා සුපුරුදු අංකනයෙන්, O අවල මූලයකට අනුබද්ධයෙන් A හා B ලක්ෂ්‍ය දෙකක පිහිටුම් දෛශික පිළිවෙලින් $i + aj$ හා $ai - 2j$ යැයි ගනිමු. C යනු $AC : CB = 1 : 2$ වන පරිදි AB මත වූ ලක්ෂ්‍යය යැයි ද ගනිමු. AB ට OC ලම්බ යැයි දී ඇත. a හි අගය සොයන්න.

.....

.....

.....

.....

.....

.....

.....

.....

.....

.....

.....

.....

.....

.....

.....

.....

.....

.....

.....

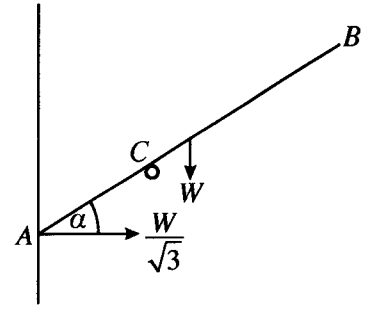
.....

.....

.....

.....

7. දිග $2a$ හා බර W වූ ACB ඒකාකාර දණ්ඩක් රූපයේ දක්වා ඇති පරිදි A කෙළවර සුමට සිරස් බිත්තියකට එරෙහි ව C හි තබා ඇති සුමට නාදැත්තක් මගින් සමතුලිතතාවේ තබා ඇත. A හි දී බිත්තිය මගින් ඇති කරන ප්‍රතික්‍රියාව $\frac{W}{\sqrt{3}}$ බව දී ඇත. දණ්ඩ තිරස සමග සාදන α කෝණය $\frac{\pi}{6}$ බව පෙන්වන්න.



$AC = \frac{3}{4}a$ බව ද පෙන්වන්න.

.....

.....

.....

.....

.....

.....

.....

.....

.....

.....

.....

.....

.....

.....

.....

.....

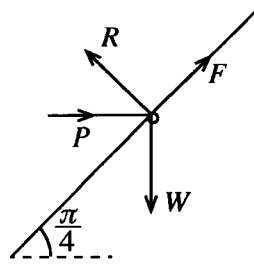
.....

.....

.....

.....

8. බර W වූ කුඩා පබළුවක් තිරසට $\frac{\pi}{4}$ කෝණයකින් ආනත අවල, රළු, සෘජු කම්බියකට අමුණා ඇත. රූපයේ දැක්වෙන පරිදි විශාලත්වය P වූ තිරස් බලයක් මගින් පබළුව සමතුලිතව තබා ඇත. පබළුව හා කම්බිය අතර සර්ෂණ සංගුණකය $\frac{1}{2}$ වේ. පබළුව මත සර්ෂණ බලය F හා අභිලම්බ ප්‍රතික්‍රියාව R නිර්ණය කිරීම සඳහා ප්‍රමාණවත් සමීකරණ P හා W ඇසුරෙන් ලබා ගන්න.



$\frac{F}{R} = \frac{W-P}{W+P}$ බව දී ඇත. $\frac{W}{3} \leq P \leq 3W$ බව පෙන්වන්න.

.....

.....

.....

.....

.....

.....

.....

.....

.....

.....

.....

.....

.....

.....

.....

.....

.....

.....

.....

.....

9. A හා B යනු Ω නියැදි අවකාශයක සිද්ධි දෙකක් යැයි ගනිමු. සුපුරුදු අංකනයෙන්, $P(A) = \frac{3}{5}$, $P(B|A) = \frac{1}{4}$ හා $P(A \cup B) = \frac{4}{5}$ බව දී ඇත. $P(B)$ සොයන්න.

A හා B සිද්ධි ස්වායත්ත නොවන බව පෙන්වන්න.

.....
.....
.....
.....
.....
.....
.....
.....
.....
.....
.....
.....
.....
.....
.....
.....
.....
.....
.....
.....

10. එක එකක් 10 ට අඩු හෝ සමාන ධන නිඛිලමය නිරීක්ෂණ 5 ක කුලකයක මධ්‍යන්‍යය, මධ්‍යස්ථය හා මාතය යන එක එකක් 6 ට සමාන වේ. නිරීක්ෂණවල පරාසය 9 වේ. මෙම නිරීක්ෂණ පහ සොයන්න.

.....
.....
.....
.....
.....
.....
.....
.....
.....
.....
.....
.....
.....
.....
.....
.....
.....
.....
.....

නව නිර්දේශය / புதிய பாடத்திட்டம் / New Syllabus

NEW

අධ්‍යයන පොදු සහතික පත්‍ර (උසස් පෙළ) විභාගය, 2020
கல்விப் பொதுத் தராதரப் பத்திர (உயர் தர)ப் பரீட்சை, 2020
General Certificate of Education (Adv. Level) Examination, 2020

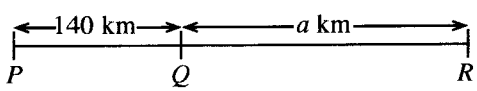
සංයුක්ත ගණිතය II இணைந்த கணிதம் II Combined Mathematics II	<table border="1" style="margin: auto; border-collapse: collapse;"> <tr> <td style="padding: 5px 15px;">10</td> <td style="padding: 5px 15px;">S</td> <td style="padding: 5px 15px;">II</td> </tr> </table>	10	S	II
10	S	II		

B කොටස

* ප්‍රශ්න පහකට පමණක් පිළිතුරු සපයන්න.

(මෙම ප්‍රශ්න පත්‍රයෙහි g මගින් ගුරුත්වජ ත්වරණය දැක්වෙයි.)

11. (a) රූපයෙහි පෙන්වා ඇති පරිදි P, Q හා R දුම්රිය ස්ථාන තුනක් $PQ = 140$ km හා $QR = a$ km වන පරිදි සරල රේඛාවක පිහිටා ඇත. කාලය $t = 0$ දී A දුම්රියක් P හි දී නිශ්චලතාවයෙන් ආරම්භ කර Q දෙසට $f \text{ km h}^{-2}$ නියත ත්වරණයෙන් පැය භාගයක් ගමන් කර කාලය $t = \frac{1}{2} \text{ h}$ හි දී එයට තිබූ ප්‍රවේගය පැය තුනක කාලයක් පවත්වාගෙන යයි. ඉන්පසු එය $f \text{ km h}^{-2}$ නියත මන්දනයෙන් ගමන් කර Q හි දී නිශ්චලතාවට පැමිණෙයි. කාලය $t = 1 \text{ h}$ හි දී තවත් B දුම්රියක් R හි දී නිශ්චලතාවයෙන් ආරම්භ කර Q දෙසට පැය T කාලයක් $2f \text{ km h}^{-2}$ නියත ත්වරණයෙන් ද ඉන්පසු $f \text{ km h}^{-2}$ නියත මන්දනයෙන් ද ගමන් කර Q හි දී නිශ්චලතාවට පැමිණෙයි. දුම්රිය දෙක ම එක ම මෙහෙයේ දී නිශ්චලතාවට පැමිණේ. එක ම රූපසටහනක A හා B හි වලින සඳහා ප්‍රවේග-කාල ප්‍රස්තාරවල දළ සටහන් අඳින්න.

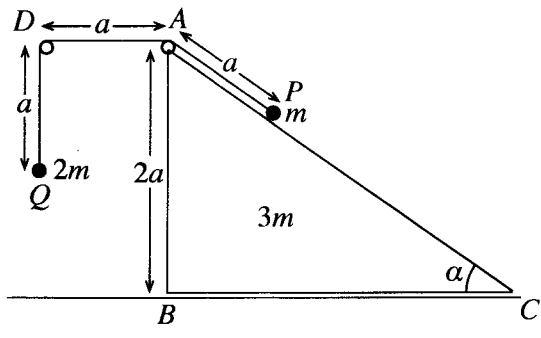


එ නයින් හෝ අන් අයුරකින් හෝ, $f = 80$ බව පෙන්වා, T හි හා a හි අගයන් සොයන්න.

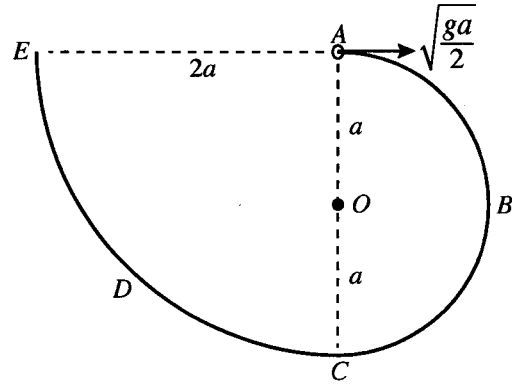
(b) නැවක් පොළොවට සාපේක්ෂව u ඒකාකාර වේගයෙන් බටහිර දෙසට යාත්‍රා කරන අතර බෝට්ටුවක් පොළොවට සාපේක්ෂව $\frac{u}{2}$ ක ඒකාකාර වේගයෙන් සරල රේඛීය පෙතක යාත්‍රා කරයි. එක්තරා මොහොතක දී, බෝට්ටුවෙන් d දුරකින් උතුරෙන් නැගෙනහිරට $\frac{\pi}{3}$ ක කෝණයකින් නැව පිහිටයි.

- (i) බෝට්ටුව පොළොවට සාපේක්ෂව උතුරෙන් බටහිරට $\frac{\pi}{6}$ ක කෝණයක් සාදන දිශාවට යාත්‍රා කරයි නම් බෝට්ටුවට නැව අල්ලාගත හැකි බව පෙන්වා, එයට නැව අල්ලා ගැනීමට ගතවන කාලය $\frac{2d}{\sqrt{3}u}$ බව පෙන්වන්න.
- (ii) බෝට්ටුව පොළොවට සාපේක්ෂව උතුරෙන් නැගෙනහිරට $\frac{\pi}{6}$ ක කෝණයක් සාදන දිශාවට යාත්‍රා කරයි නම් නැවට සාපේක්ෂව බෝට්ටුවේ වේගය $\frac{\sqrt{7}u}{2}$ බව පෙන්වා, නැව සහ බෝට්ටුව අතර කෙටිම දුර $\frac{d}{2\sqrt{7}}$ බව පෙන්වන්න.

12. (a) රූපයෙහි ABC ත්‍රිකෝණය, $\angle ACB = \alpha$, $\angle ABC = \frac{\pi}{2}$ හා $AB = 2a$ වූ BC අඩංගු මුහුණත සුමට තිරස් ගෙබිමක් මත තබන ලද ස්කන්ධය $3m$ වන සුමට ඒකාකාර කුඤ්ඤයක ගුරුත්ව කේන්ද්‍රය තුළින් වූ සිරස් හරස්කඩ වේ. AC රේඛාව, එය අඩංගු මුහුණතෙහි උපරිම බෑවුම් රේඛාවක් වේ. D ලක්ෂ්‍යය, AD තිරස් වන පරිදි ABC තලයෙහි වූ අවල ලක්ෂ්‍යයකි. A හා D හි සවිකර ඇති සුමට කුඩා කප්පි දෙකක් මතින් යන දිග $3a$ වූ සැහැල්ලු අවිනත්‍ය තන්තුවක දෙකෙළවරට පිළිවෙලින් ස්කන්ධය m හා $2m$ වූ P හා Q අංශු දෙක ඇඳා ඇත. රූපයේ දැක්වෙන පරිදි P අංශුව AC මත අල්වා තබා $AP = AD = DQ = a$ වන පරිදි Q අංශුව නිදහසේ එල්ලෙමින් පද්ධතිය නිශ්චලතාවයෙන් මුදා හරිනු ලැබේ. Q අංශුව ගෙබිමට ළඟා වීමට ගන්නා කාලය නිර්ණය කිරීමට ප්‍රමාණවත් සමීකරණ ලබා ගන්න.



(b) රූපයේ දැක්වෙන පරිදි $ABCDE$ සුමට තුනී කම්බියක් සිරස් තලයක සවි කර ඇත. ABC කොටස O කේන්ද්‍රය හා අරය a වූ අර්ධ වෘත්තයක් වන අතර CDE කොටස කේන්ද්‍රය A හා අරය $2a$ වූ වෘත්තයකින් හතරෙන් කොටසකි. A හා C ලක්ෂ්‍ය O හරහා යන සිරස් රේඛාවේ පිහිටන අතර, AE රේඛාව තිරස් වේ. ස්කන්ධය m වූ කුඩා සුමට P පබළුවක් A හි තබා තිරස්ව $\sqrt{\frac{ga}{2}}$ ප්‍රවේගයක් දෙනු ලබන අතර එය කම්බිය දිගේ චලනය ආරම්භ කරයි.



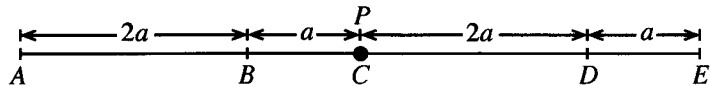
\vec{OA} සමග θ ($0 \leq \theta \leq \pi$) කෝණයක් \vec{OP} සාදන විට

P පබළුවේ v වේගය, $v^2 = \frac{ga}{2}(5 - 4\cos\theta)$ මගින් දෙනු ලබන බව පෙන්වන්න.

ඉහත පිහිටීමේ දී කම්බිය මගින් P පබළුව මත ඇති කරන ප්‍රතික්‍රියාව සොයා, P පබළුව $\theta = \cos^{-1}\left(\frac{5}{6}\right)$ වූ ලක්ෂ්‍යය පසු කරන විට එය එහි දිශාව වෙනස් කරන බව පෙන්වන්න.

P පබළුව E හි දී කම්බියෙන් ඉවත් වීමට මොහොතකට පෙර එහි ප්‍රවේගය ලියා දක්වා එම මොහොතේ දී කම්බිය මගින් P පබළුව මත ඇති කරන ප්‍රතික්‍රියාව සොයන්න.

13. රූපයේ දැක්වෙන පරිදි $AB = 2a, BC = a, CD = 2a$ හා $DE = a$ වන පරිදි සුමට තිරස් මේසයක් මත A, B, C, D හා E ලක්ෂ්‍ය එම පිළිවෙලින් සරල රේඛාවක්



මත පිහිටා ඇත. ස්වභාවික දිග $2a$ හා ප්‍රත්‍යාස්ථතා මාපාංකය kmg වන සැහැල්ලු ප්‍රත්‍යාස්ථ තන්තුවක එක් කෙළවරක් A ලක්ෂ්‍යයට ඇඳා ඇති අතර අනෙක් කෙළවර ස්කන්ධය m වන P අංශුවකට ඇඳා ඇත. ස්වභාවික දිග a හා ප්‍රත්‍යාස්ථතා මාපාංකය mg වන තවත් සැහැල්ලු ප්‍රත්‍යාස්ථ තන්තුවක එක් කෙළවරක් E ලක්ෂ්‍යයට ඇඳා ඇති අතර අනෙක් කෙළවර P අංශුවට ඇඳා ඇත.

P අංශුව C හි අල්වා තබා මුදා හල විට, එය සමතුලිතතාවේ පවතී. k හි අගය සොයන්න.

දැන්, P අංශුව D ලක්ෂ්‍යයට ළඟා වන තෙක් AP තන්තුව ඇද නිශ්චලතාවයේ සිට මුදා හරිනු ලැබේ.

D සිට B දක්වා P හි චලිත සමීකරණය $\ddot{x} + \frac{3g}{a}x = 0$ මගින් දෙනු ලබන බව පෙන්වන්න; මෙහි $CP = x$ වේ. $\dot{x}^2 = \frac{3g}{a}(c^2 - x^2)$ සූත්‍රය භාවිතයෙන් P අංශුව B ට ළඟා වන විට එහි ප්‍රවේගය $3\sqrt{ga}$ බව පෙන්වන්න; මෙහි c යනු විස්තාරය වේ.

P අංශුව B වෙත ළඟා වන විට එයට ආවේගයක් දෙනු ලබන්නේ ආවේගයෙන් මොහොතකට පසු P හි ප්‍රවේගය \vec{BA} දිශාවට \sqrt{ag} වන පරිදි ය.

B පසු කිරීමෙන් පසු ක්ෂණික නිසලතාවට පත්වන තෙක් P හි චලිත සමීකරණය $\ddot{y} + \frac{g}{a}y = 0$ මගින් දෙනු ලබන බව පෙන්වන්න; මෙහි $DP = y$ වේ.

D වලින් පටන් ගත් P අංශුව දෙවන වතාවට B වෙත පැමිණීමට ගන්නා මුළු කාලය $2\sqrt{\frac{a}{g}}\left(\frac{\pi}{3\sqrt{3}} + \cos^{-1}\left(\frac{3}{\sqrt{10}}\right)\right)$ බව පෙන්වන්න.

14. (a) a හා b යනු එකක දෛශික දෙකක් යැයි ගනිමු.

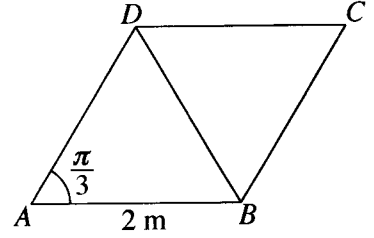
O මූලයක් අනුබද්ධයෙන් A, B හා C ලක්ෂ්‍ය තුනක පිහිටුම් දෛශික පිළිවෙළින් $12a, 18b$ හා $10a + 3b$ වේ.

a හා b ඇසුරෙන් \vec{AC} හා \vec{CB} ප්‍රකාශ කරන්න.

A, B හා C එක රේඛීය බව අපෝහනය කර, AC : CB සොයන්න.

$OC = \sqrt{139}$ බව දී ඇත. $\hat{AOB} = \frac{\pi}{3}$ බව පෙන්වන්න.

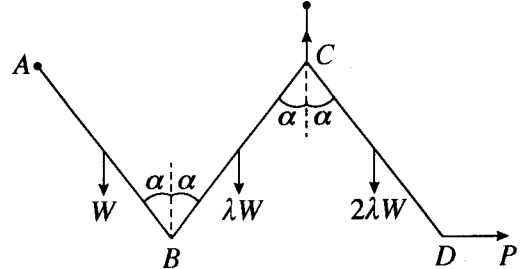
(b) ABCD යනු $AB = 2$ m හා $\hat{BAD} = \frac{\pi}{3}$ වූ රෝම්බසයකි. විශාලත්වය 10 N, 2 N, 6 N, P N හා Q N වූ බල පිළිවෙළින් AD, BA, BD, DC හා CB දිගේ අක්ෂර අනුපිළිවෙළින් දැක්වෙන දිශාවලට ක්‍රියා කරයි. සම්ප්‍රයුක්ත බලයේ විශාලත්වය 10 N ද එහි දිශාව BC ට සමාන්තර B සිට C අතට වූ දිශාව බව ද දී ඇත. P හා Q හි අගයන් සොයන්න.



සම්ප්‍රයුක්ත බලයෙහි ක්‍රියා රේඛාව, දික් කරන ලද BA හමුවන ලක්ෂ්‍යයට A සිට ඇති දුර ද සොයන්න.

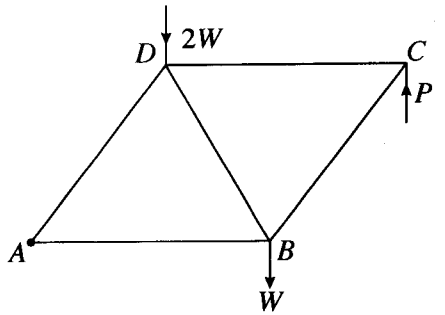
දැන්, සම්ප්‍රයුක්ත බලය A හා C ලක්ෂ්‍ය හරහා යන පරිදි වාමාවර්ත අතට ක්‍රියා කරන ඝූර්ණය M Nm වූ යුග්මයක් ද CB හා DC දිගේ අක්ෂර අනුපිළිවෙළින් දැක්වෙන දිශාවලට ක්‍රියා කරන එක එකෙහි විශාලත්වය F N වූ බල දෙකක් ද පද්ධතියට එකතු කරනු ලැබේ. F හා M හි අගයන් සොයන්න.

15. (a) එක එකෙහි දිග $2a$ වන AB, BC හා CD ඒකාකාර දඬු තුනක් B හා C අන්තවලදී සුමට ලෙස සන්ධි කර ඇත. AB, BC හා CD දඬුවල බර පිළිවෙළින් W, λW හා $2\lambda W$ වේ. A කෙළවර අවල ලක්ෂ්‍යයකට සුමට ලෙස අසව් කර ඇත. රූපයේ දැක්වෙන පරිදි දඬු සිරස් තලයක සමතුලිතව තබා ඇත්තේ A හා C එකම තිරස් මට්ටමේ ද දඬු එක එකක් සිරස සමග α කෝණයක් සාදන පරිදි ද C සන්ධියට හා C ට සිරස්ව ඉහළින් වූ අවල ලක්ෂ්‍යයකට ඇඳු සැහැල්ලු අවිභ්‍යාස තන්තුවක් මගින් හා D අන්තයට යෙදූ තිරස් P බලයක් මගිනි. $\lambda = \frac{1}{3}$ බව පෙන්වන්න.



B හි දී CB මගින් AB මත ඇති කරන බලයේ තිරස් හා සිරස් සංරචක පිළිවෙළින් $\frac{W}{3} \tan \alpha$ හා $\frac{W}{6}$ බව ද පෙන්වන්න.

(b) යාබද රූපයේ දැක්වෙන රාමු සැකිල්ල සාදා ඇත්තේ A, B, C හා D හි දී නිදහසේ සන්ධි කරන ලද එක එකෙහි දිග $2a$ වන AB, BC, CD, DA හා BD සැහැල්ලු දඬු මගිනි. B හා D හි දී පිළිවෙළින් W හා 2W වන භාර ඇත. රාමු සැකිල්ල A හි දී සුමටව අවල ලක්ෂ්‍යයකට අසව් කර AB තිරස්ව ඇතිව සමතුලිතතාවේ තබා ඇත්තේ C හි දී සිරස්ව ඉහළට යොදන ලද P බලයක් මගිනි. W ඇසුරෙන් P හි අගය සොයන්න.

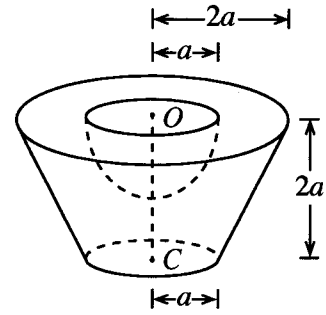


බෝ අංකනය භාවිතයෙන්, ප්‍රත්‍යාබල සටහනක් ඇඳ එ නගින්න, දඬුවල ප්‍රත්‍යාබල ආතති ද තෙරපුම් ද යන්න සඳහන් කරමින් ඒවා සොයන්න.

16. (i) පතුලේ අරය r හා උස h වූ ඒකාකාර ඝන ඍජු වෘත්තාකාර කේතුවක ස්කන්ධ කේන්ද්‍රය පතුලේ කේන්ද්‍රයේ සිට $\frac{h}{4}$ දුරකින් ද

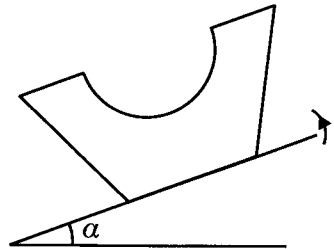
(ii) අරය r වන ඒකාකාර ඝන අර්ධගෝලයක ස්කන්ධ කේන්ද්‍රය, කේන්ද්‍රයේ සිට $\frac{3r}{8}$ දුරකින් ද පිහිටන බව පෙන්වන්න.

පතුලේ අරය $2a$ හා උස $4a$ වූ ඒකාකාර ඝන ඍජු වෘත්ත කේතුවක ඡේතකයකින් ඝන අර්ධ ගෝලයක් ඉවත් කර සාදා ඇති S වංගෙඩියක් යාබද රූපයේ දැක්වේ. ඡේතකයේ ඉහළ වෘත්තාකාර මුහුණතේ අරය හා කේන්ද්‍රය පිළිවෙලින් $2a$ හා O වන අතර පහළ වෘත්තාකාර මුහුණත සඳහා ඒවා පිළිවෙලින් a හා C වේ. ඡේතකයේ උස $2a$ වේ. ඉවත් කළ ඝන අර්ධ ගෝලයෙහි අරය හා කේන්ද්‍රය පිළිවෙලින් a හා O වේ.



S වංගෙඩියේ ස්කන්ධ කේන්ද්‍රය O සිට $\frac{41}{48}a$ දුරකින් පිහිටන බව පෙන්වන්න.

S වංගෙඩිය, එහි පහළ වෘත්තාකාර මුහුණත, තලය ස්පර්ශ කරමින් රළු තිරස් තලයක් මත තබා ඇත. දැන්, තලය සෙමෙන් උඩු අතට ඇල කරනු ලැබේ. වංගෙඩිය හා තලය අතර ඝර්ෂණ සංගුණකය 0.9 වේ. $\alpha < \tan^{-1}(0.9)$ නම්, වංගෙඩිය සමතුලිතතාවේ පවතින බව පෙන්වන්න; මෙහි α යනු තලයේ තිරසර ආනතිය වේ.



17. (a) එක්තරා කර්මාන්තශාලාවක අයිතමවලින් 50% ක් A යන්ත්‍රය නිපදවන අතර ඉතිරිය B හා C යන්ත්‍ර මගින් නිපදවනු ලැබේ. A , B හා C යන්ත්‍ර මගින් නිපදවනු ලබන අයිතමවලින් පිළිවෙලින් 1%, 3% හා 2% ක් දෝෂ සහිත බව දැනිමු. සසම්භාවීව තෝරාගත් අයිතමයක් දෝෂ සහිත වීමේ සම්භාවිතාව 0.018 බව දී ඇත. B හා C යන්ත්‍ර මගින් නිපදවනු ලබන අයිතමවල ප්‍රතිශත සොයන්න.

සසම්භාවී ලෙස තෝරාගත් අයිතමයක් දෝෂ සහිත බව දී ඇති විට, එය A යන්ත්‍රය මගින් නිපදවන ලද එකක් වීමේ සම්භාවිතාව සොයන්න.

(b) එක්තරා කර්මාන්තශාලාවක සේවකයින් 100 දෙනකු තම නිවසේ සිට සේවා ස්ථානයට ගමන් කිරීමට ගනු ලබන කාලය (මිනිත්තුවලින්) පහත වගුවේ දී ඇත:

ගනු ලබන කාලය	සේවකයින් ගණන
0 - 20	10
20 - 40	30
40 - 60	40
60 - 80	10
80 - 100	10

ඉහත දී ඇති ව්‍යාප්තියේ මධ්‍යන්‍යය, සම්මත අපගමනය හා මාතය නිමානය කරන්න. පසුව, 80 - 100 පන්ති ප්‍රාන්තරයේ සිටි සියලුම සේවකයින් කර්මාන්තශාලාව ආසන්නයේ පදිංචියට ගොස් ඇත. එයින්, 80 - 100 පන්ති ප්‍රාන්තරයේ සංඛ්‍යාතය 10 සිට 0 දක්වා ද 0 - 20 පන්ති ප්‍රාන්තරයේ සංඛ්‍යාතය 10 සිට 20 දක්වා ද වෙනස් විය.

නව ව්‍යාප්තියේ මධ්‍යන්‍යය, සම්මත අපගමනය හා මාතය නිමානය කරන්න.